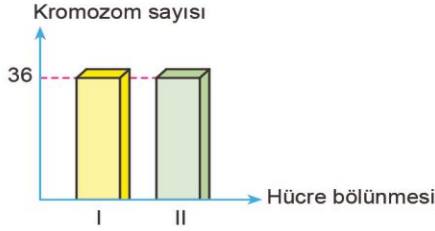


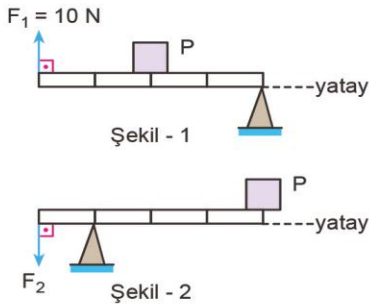
1. Aşağıdaki grafikte, başlangıçta $2n = 36$ kromozoma sahip bir hücrenin geçirdiği bölünmeler sonrasında, kromozom sayısının değişimi gösterilmiştir.



Bu bölünme çeşidiyle ilgili olarak aşağıdakilerden hangisi söylenemez?

- A) Kromozom sayısı sabit kalır.
B) Bölünmeler sonucu 4 yeni hücre oluşur.
C) Bu bölünmeler sonucu kalıtsal çeşitlilik sağlanır.
D) Bu hücre, 2 mitoz bölünme geçirmiştir.

2.

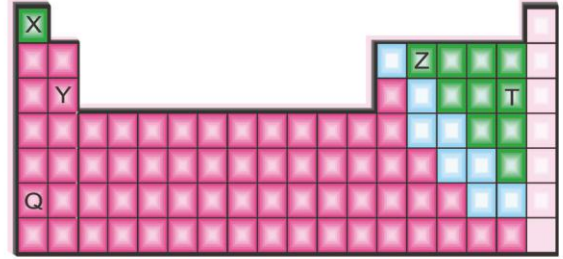


Şekil-1 ve 2'de kullanılan ağırlıkları önemsiz eşit bölmeli çubuklardaki özdeş P ağırlıklı cisimler, F_1 ve F_2 kuvvetleri ile dengededirler.

$F_1 = 10 \text{ N}$ olduğuna göre, F_2 kuvveti kaç newtondur?

- A) 20 B) 30 C) 45 D) 60

3.



Periyodik tabloda yerleri verilen X, Y, Z, T ve Q elementleri ile ilgili aşağıdaki ifadelerden hangisi yanlıştır?

- A) Y ile T aynı periyottadır.
B) Y ile Q bileşik oluşturmaz.
C) Z ile T ametaldir.
D) X ile Q metaldir.

4. Mg_3N_2 bileşiği için,

- I. Mg ile N atomu arasında elektron alışverişi olmuştur.
II. Suda çözülmüş hâlde elektrik akımını iletir.
III. Kovalent bağlıdır.
IV. Mg atomu (2+), N atomunda (3-) değerliğini almıştır.

yukarıdaki ifadelerden hangileri doğrudur?

($_{12}\text{Mg}$, $_{7}\text{N}$)

- A) I ve IV B) II ve IV
C) I, II ve IV D) I, II, III ve IV

5.

- X maddesi suda çözüldüğünde OH^- iyonu verir.
- Y maddesinin tadı acıdır.
- Z maddesi asit ve bazın tepkimesi sonucu oluşur.

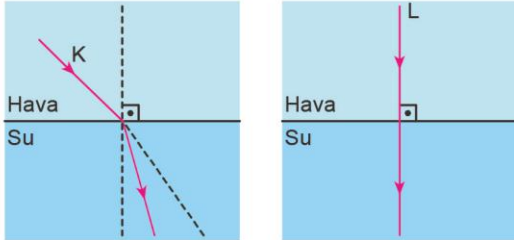
Yukarıda özellikleri verilen X, Y ve Z maddelerinin pH değerleri aşağıdakilerden hangisi gibi olabilir?

	X	Y	Z
A)	2	9	7
B)	4	1	14
C)	8	3	9
D)	11	12	7

6. Aşağıdaki mesleklerden hangisi kimya temelli değildir?

- A) Biyokimya uzmanlığı
- B) Kimya mühendisliği
- C) Elektronik mühendisliği
- D) Kimyagerlik

7.



Saydam ortamlarda ilerleyen K ve L ışınlarının hareket doğrultuları şekilde verilmiştir.

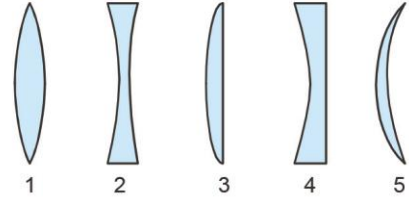
Bu iki ışın için dört öğrencinin yaptığı yorumlar aşağıdaki gibidir.

- Zeynep : K ışını kırıldığında sürati azalmıştır.
- Dilan : L ışını kırılmaya uğramıştır.
- Tolga : L ışınının sürati değişmiştir.
- Cansu : K ışını normalden uzaklaşmıştır.

Buna göre, hangi öğrencilerin yaptığı yorumlar doğrudur?

- A) Yalnız Zeynep
- B) Yalnız Cansu
- C) Zeynep ve Tolga
- D) Zeynep, Dilan ve Tolga

8.



Yukarıdaki merceklerden hangileri ışığı dağıtır?

- A) 1 ve 2
- B) 2 ve 4
- C) 1, 3 ve 5
- D) 2, 3 ve 4

9. Yaz aylarında ormana atılan kırık bir cam şişe orman yangınlarına neden olabilir.

Aşağıdakilerden hangisi bu durumun nedeni olabilir?

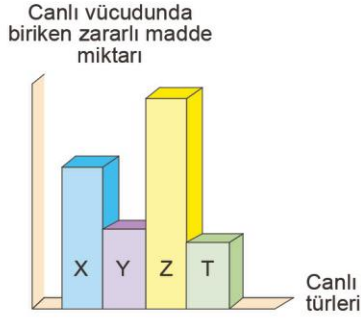
- A) Cam şişenin kalın kenarlı bir mercek görevi görmesi
- B) Cam şişenin ışığı toplaması
- C) Cam şişenin ışığı geçirmesi
- D) Cam şişenin ışığı dağıtması

10. Normal şartlarda sesi duyulmayan bir trenin kulağınızı raylara dayayıp dinlediğinizde sesini duyabilirsiniz.

Bunun nedeni aşağıdakilerden hangisi olabilir?

- A) Ses; katılarda, sıvı ve gazlara göre daha iyi yayılır.
- B) Ses şiddeti ses kaynağının uzaklığına bağlıdır.
- C) Ses kaynağının cinsi sesin yüksekliğini etkiler.
- D) Sesin yüksekliği sesin yayıldığı ortamın cinsine bağlıdır.

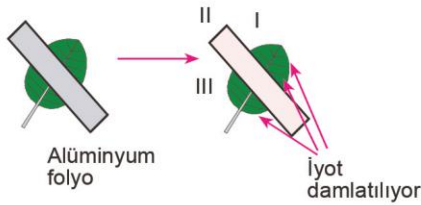
11.



Bir besin zincirini oluşturan X, Y, Z ve T canlılarının vücutlarında biriken zehirli madde miktarı grafiği yukarıdaki gibi olduğuna göre, canlıların biyokütleleri arasındaki ilişki aşağıdakilerden hangisidir?

- A) $Z > X > Y > T$ B) $T > Y > X > Z$
C) $X > Y > Z > T$ D) $Y > T > Z > X$

12.



Deney yapan bir öğrenci yukarıdaki gül bitkisi yaprağının bir bölümünü alüminyum folyo ile kaplayarak bir süre ışıkta bekletiyor. Akşam olunca yaprağı koparıyor ve I, II, III numaralı kısımlara iyot damlatıyor. I ve III numaralı bölgeler maviye boyanırken, II. bölüm yeşil kalıyor.

Öğrenci bu deney sonucunda hangi soruya cevap bulamaz?

- A) Fotosentez için ışık gerekli midir?
B) İyot nişastanın ayırıcısı mıdır?
C) I ve III numaralı kısımlarda besin üretimi gerçekleşir mi?
D) Işık şiddeti fotosentez hızını etkiler mi?

13. Bir araştırmacı "Bitkilerde fotosentez hızı su miktarına bağlıdır." yargısını deneyle ispatlamak istiyor.

Araştırmacının bu deney için aşağıdaki düzeneklerden hangisini kullanması daha uygun olur?

(Bitkilerin bulunduğu ortamlar aydınlıktır.)

A) Farklı miktarda su verilmiş aynı tür bitki



Farklı ortamda

B) Aynı miktarda su verilmiş farklı tür bitki



Farklı ortamda

C) Aynı miktarda su verilmiş farklı tür bitki



Aynı ortamda

D) Farklı miktarda su verilmiş aynı tür bitki



Aynı ortamda

HATAY İL MİLLİ EĞİTİM MÜDÜRLÜĞÜ DENEME SINAVI

14. O_2 'siz solunum sonucu net 2 ATP, O_2 'li solunum sonucu ise net 38 ATP üretilir. O_2 'li solunumda daha fazla ATP üretilmesinin temel nedeni nedir?

- A) Kullanılan enzimlerin farklı olması
B) Kullanılan besinlerin farklı olması
C) O_2 'li solunumda besinin tamamen yapı taşlarına ayrılması
D) Her iki solunum sonucu CO_2 açığa çıkması

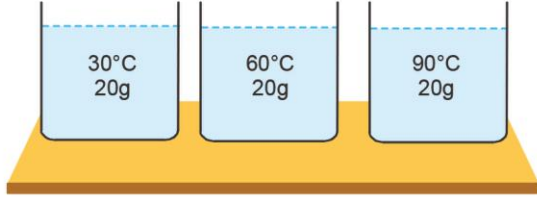
15. Son yıllarda gelişen biyoteknolojik çalışmalar,

- I. tarım
II. hayvancılık
III. tıp
IV. adli tıp

gibi alanların hangilerinde yardımcı olmuştur?

- A) Yalnız I B) I ve III
C) II ve IV D) I, II, III ve IV

16.



Şekildeki sular bir kaptaki karıştırılırsa karışımın denge sıcaklığı kaç °C olur?

(Isı alışverişi sadece üç sıvı arasındadır.)

- A) 60 B) 50 C) 40 D) 30

17. 5 gram suyun sıcaklığını 60°C yükselten ısı, öz ısısı 0,5 cal/g °C olan 10 gram sıvının sıcaklığını, kaç °C artırır? ($C_{su} = 1 \text{ cal/g}^\circ\text{C}$)

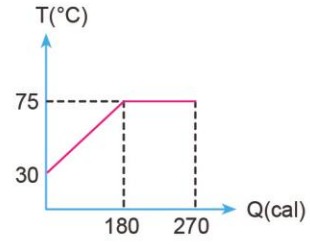
- A) 60 B) 50 C) 40 D) 30

18. 100°C'de 12 gram su buharının, 100°C'de 12 gram su hâline dönüştürülebilmesi için dışarıya kaç kalorilik ısı vermesi gerekir?

($L_{yoğuşma} = 540 \text{ cal/g}$)

- A) 9000 B) 8660
C) 7420 D) 6480

19.

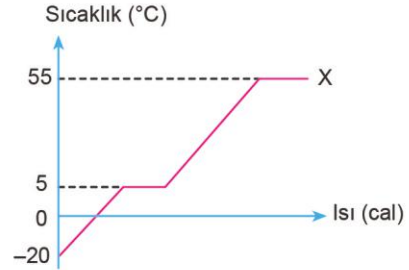


Isı - sıcaklık grafiği şekildeki gibi olan sıvı için,

$\frac{L}{c}$ oranı kaçtır?

- A) 90 B) $\frac{45}{2}$ C) $\frac{1}{45}$ D) $\frac{1}{90}$

20. Aşağıda X maddesine ait sıcaklık - ısı grafiği verilmiştir.



Grafiğe göre, aşağıdaki ifadelerden hangisi yanlıştır?

- A) Maddenin erime sıcaklığı 0°C' dir.
B) Madde -10°C' de katı hâlde bulunur.
C) Madde 40°C' de sıvı hâlde bulunur.
D) Maddenin kaynama sıcaklığı 55 °C' dir.

T.C. İNKILAP TARİHİ VE ATATÜRKÇÜLÜK

Deneme Sınavı 4

Bu sınav 20 soru içermektedir.
Tavsiye edilen süre 40 dakikadır.

8.

Sınıf

Adı :
Soyadı:
Sınıfı :
No :

1. Size ben taarruz emretmiyorum. Ölmeyi emrediyorum. Biz ölünceye kadar geçecek zaman içinde yerimize başka kuvvetler ve komutanlar geçebilir.

Mustafa Kemal bu sözü hangi duygu ve düşüncelerle söylememiştir?

- A) Koca bir muharebenin ufacık bir ana bağlı olduğu ve bu anın iyi kullanılamamasının vatanın geleceğini tehlikeye düşürebileceği
B) Muharebe sırasında iyi kullanılmış bir anın başarıyı sağlayacağı ve vatanın geleceğini değiştirebileceği
C) Ölümü hiçe sayarak siperlerden ayrılmadan savaşmanın başarıyı sağlayacağı
D) Şehit düşmemek için geriye çekilmek gerektiği

2. ★ Sınırların korunması ve iç güvenliğin teminin dışında, Osmanlı ordusu derhâl terhis edilecektir.

◆ Toros tünelleri, İtilaf Devletleri tarafından işgal olunacaktır.

● Altı ilde (Erzurum, Van, Elazığ, Diyarbakır, Sivas, Bitlis) karışıklık çıkarsa İtilaf Devletleri bu illerin herhangi bir kısmını işgal hakkına sahip olacaktır.

Mondros Ateşkesi'nin sembollerle belirtilmiş olan bu hükümlerinden hangilerinin Ermeni Devleti kurmaya yönelik olduğu savunulabilir?

- A) Yalnız ◆ B) Yalnız ★
C) Yalnız ● D) ● ve ◆

3. **Doğu Anadolu Müdafaa-i Hukuk Cemiyetinin,**

- hiçbir şekilde bölge dışına göç edilmeyecek,
- topraklar başkasına satılmayacak

şeklinde aldığı kararlar aşağıdakilerden hangisine daha çok önem verildiğinin göstergesidir?

- A) Bölgenin jeopolitik konumuna
B) Bölgedeki Türk nüfusunun azalmamasına
C) Tarımsal üretimin devamlılığına
D) Azınlık isyanlarının engellenmesine

- 4.

Hıyanet-i Vataniye Kanunu
Madde 1: ... Ülkeyi yabancı devlet güçlerinden kurtarmak ve saldırıları önlemek amacıyla yönelik kurulan Büyük Millet Meclisi'ne karşı düşünce veya uygulamalarıyla veya yazdıkları yazılarla muhalefet ve bozgunculuk edenler vatan haini sayılırlar.

Kanunun bu maddesinin aşağıdaki amaçlardan hangisine yönelik olduğu savunulamaz?

- A) TBMM'nin otoritesini güçlendirmek
B) TBMM aleyhindeki propagandaları etkisizleştirmek
C) Kuvayımilliye birliklerini tek merkezden yönetmek
D) Ülkeyi dış güçlere karşı korumak

HATAY İL MİLLİ EĞİTİM MÜDÜRLÜĞÜ DENEME SINAVI

5. İngiliz komutanı, Urfa'da ziyaret ettiği Mutasarrıf (Vali) Nusret Bey'e "Galip bir hükümetin askeri neden karşılanmıyor?" diye sorar. Nusret Bey'den, "Haksız yere memleketi işgal eden bir kuvveti karşılamaya çıkmak bir Türk mutasarrıfına yakışmaz. Bir misafir gibi gelseydiniz sizi Birecik'te karşılardım." cevabını alır.

Nusret Bey'in bu tutumuna bakılarak aşağıdakilerden hangisine ulaşılabilir?

- A) Siyasi çıkarlar doğrultusunda hareket edilmesinin gerektiğine
B) İngilizlerin işgallerinin geçici olduğuna
C) Her şart altında onurumuzu korumak gerektiğine
D) Güney Cephesi'ndeki savaşların sona erdiğine

T.C. İNKILAP TARİHİ VE ATATÜRKÇÜLÜK

6.

Eğitim Kongresi	
Toplantı yeri	Ankara Darül Muallimin (Erkek Öğretmen) konferans salonu
Toplantıya katılanlar	Mustafa Kemal Paşa ve eğitim ile ilgili yöneticiler
Toplantının amacı ?

Bu şemadaki “?” ile belirtilen yere aşağıdakilerden hangisi yazılamaz?

- A) Kurtuluş Savaşı'nın kazanılmasından sonra yeni Türkiye Devleti'nin eğitim politikasını belirlemek
- B) Eğitimin genel sorunlarını tartışmak
- C) Eğitime millî ve çağdaş bir yön vermek
- D) Güçler birliği ilkesini benimsemek

7. Büyük Taarruz'dan sonra İzmir'e gelen Mustafa Kemal'in önüne Yunan bayrağı serilmiştir. Mustafa Kemal galibiyete rağmen bayrağı çığnemeyi reddetmiştir.

Mustafa Kemal'in bu tutumu aşağıdakilerden hangisine duyduğu saygıyı ifade eder?

- A) Bayrağın, milletin onuru olmasına
- B) Hukuk kurallarına
- C) Askerî kurallara
- D) Yunan işgaline

8.



Yukarıdaki maddelerden hangileri “Millî sınırlar içinde vatan bir bütündür, parçalanamaz.” ilkesine uygun değildir?

- A) I ve II
- B) II ve III
- C) III ve IV
- D) IV ve V

9.

- Cumhuriyet rejimine geçmek için önemli bir adım atılmıştır.
- İtilaf Devletlerinin Lozan'da Türk tarafını birbirine düşürme planları sonuçsuz kalmıştır.
- Millet egemenliğinin önündeki en büyük engel ortadan kalkmıştır.
- Osmanlı devleti resmen sona ermiştir.

Bu bilgiler aşağıdaki sorulardan hangisinin cevabıdır?

- A) TBMM'nin açılışının önemi nedir?
- B) Lozan Barış Antlaşması için yapılan hazırlıklar nelerdir?
- C) Cumhuriyetin ilan edilmesinin sonuçları nelerdir?
- D) Saltanatın kaldırılması sonucunda neler olmuştur?

HATAY İL MİLLÎ EĞİTİM MÜDÜRLÜĞÜ DENEME SINAVI

10. Yeni Türkiye Devleti'nde,

- halifeliğin kaldırılması,
- Tevhid-i Tedrisat Kanunu'nun kabul edilmesi
- Şer'îye Vekâleti'nin kaldırılıp yerine Diyanet İşleri Başkanlığının oluşturulması

inkılaplarıyla aşağıdakilerden hangisinin amaçlandığı savunulamaz?

- A) İç ve dış tehditlere karşı ülkenin güvenliğini sağlamak
- B) Din konusunda halkı aydınlatmak
- C) Laik devlet düzenini gerçekleştirmek
- D) Eğitim - öğretimde birliği sağlamak

T.C. İNKILAP TARİHİ VE ATATÜRKÇÜLÜK

11.




Millî egemenlik temeline dayanan ve özellikle cumhuriyet yönetimine sahip olan ülkelerde siyasal partilerin varlığı doğaldır. Türkiye Cumhuriyeti'nde de, bir diğerini denetleyici partilerin kurulacağına şüphe yoktur.

Mustafa Kemal'in bu sözünden hareketle,

- I. Farklı düşüncelerin yönetimde temsil edilmesini önemsemıştır.
 - II. Demokrasiye işlerlik kazandırmaya çalışmıştır.
 - III. İktidarın denetlenmesi gereğini savunmuştur.
- yargılarından hangilerine ulaşılabilir?**

- A) I ve II
B) I ve III
C) II ve III
D) I, II ve III

12.



Birtakım şeyhlerin, dedelerin seyyitlerin, çelebilerin, babaların, emirlerin arkasından sürüklenen; bü-yüçülere, üfürükçülere, muskacıların ellerine bırakılan insanlardan meydana gelmiş bir topluluğa medeni bir millet gözüyle bakılabilir mi?

Aşağıdakilerden hangisi Atatürk'ün bu sözleri doğrultusunda yapılan bir çalışmadır?

- A) Kılık kıyafet düzenlemesinin yapılması
B) Uluslararası rakamlara geçilmesi
C) Tekke ve zaviyelerin kapatılması
D) Ağırlık ve uzunluk ölçü birimlerinin değiştirilmesi

13. Cumhuriyet Dönemi'nde yapılan,

- ✓ Türk Dil Kurumunun açılması,
- ✓ Türk Tarih Kurumunun açılması,
- ✓ Tarih ve Dil Kurultaylarının düzenlenmesi

çalışmalarının ortak amacı aşağıdakilerden hangisidir?

- A) Türk ırkının en üstün ırk olduğunu savunmak
B) Millî kültürün aydınlanmasını sağlamak
C) Türk dilinin diğer dillerden etkilenmediğini kanıtlamak
D) Tarih bilincinin oluşmasını sağlamak

14. 1930'lu yıllarda Türk kadınına seçme ve seçilme hakkı verilmiştir.

Bu gelişmenin,

- I. Halkçılık,
- II. İnkılapçılık,
- III. Cumhuriyetçilik

ilkelerinden hangilerine yönelik olduğu söylenebilir?

- A) Yalnız I
B) Yalnız II
C) I ve II
D) I ve III

15. Atatürk tarafından "Halkın, halk için halk tarafından yönetilmesi" olarak nitelenen halkçılık ilkesi bu boyutuyla aşağıdaki ilkelerden hangisinin bütünleyicisidir?

- A) Cumhuriyetçilik
B) İnkılapçılık
C) Laiklik
D) Devletçilik

T.C. İNKILAP TARİHİ VE ATATÜRKÇÜLÜK

16. Ulusal egemenlik, demokrasinin vazgeçilmez temel ilkelerinden biridir.

Aşağıdakilerden hangisinin bu ilke doğrultusundaki bir düzenleme olduğu savunulamaz?

- A) Çok partili hayata geçiş denemelerinin yapılması
- B) Kadınlara seçme ve seçilme hakkının tanınması
- C) Saltanatın ve halifeliğin kaldırılması
- D) Türk Tarih Kurumunun açılması

17.



Bu şemadaki ilke - inkılap eşleştirmelerinde “?” ile belirtilen yere aşağıdakilerden hangisi yazılmalıdır?

- A) Halkçılık
- B) İnkılapçılık
- C) Laiklik
- D) Cumhuriyetçilik

18. • Özel teşebbüs ile devlet arasındaki ilişkileri dengeli bir şekilde yürütmek
- Eğitim, sağlık, bayındırlık, sanat ve ticaret işleriyle ilgilenip bu alanlarda halkın ihtiyacını karşılamak

Yukarıda belirtilen durumların Atatürk'ün hangi ilkesinin bir gereği olduğu söylenebilir?

- A) İnkılapçılık
- B) Cumhuriyetçilik
- C) Devletçilik
- D) Milliyetçilik

19. I. Siyasi güç
II. Askerî güç
III. Sosyokültürel güç
IV. Ekonomik güç

Ülkeyi iç ve dış tehlikelere karşı korumak için oluşturulan millî güç unsuru hangisidir?

- A) I.
- B) II.
- C) III.
- D) IV.

HATAY İL MİLLİ EĞİTİM MÜDÜRLÜĞÜ DENEME SINAVI

20.

İnkılap	Amaç
I. Kabotaj Kanunu'nun kabulü	Türkiye karasularında ticaret yapma hakkının Türkiye denizcilerine verilmesi
II. Türk Dil Kurumu'nun açılması	Yabancı okulların kapatılması
III. Teşvik-i Sanayi Kanunu	Ekonomik yatırımların hızlandırılması
IV. Türk Medeni Kanunu'nun kabulü	Siyasal alanda kadın ve erkek eşitliğinin sağlanması

Yukarıdaki inkılap ve amaç eşleştirmelerinden hangileri yanlıştır?

- A) I ve II
- B) II ve III
- C) II ve IV
- D) III ve IV

1. **Sam** : I would like to talk to my mother.

Secretary : - - - -

Sam : Tell her I will go to my friend's house, please.

Yukarıdaki karşılıklı konuşmada boş bırakılan yere uygun düşen seçeneği işaretleyiniz.

- A) I'm sorry, but she is in a meeting now.
B) Just a moment, please.
C) Are you sure about that?
D) I will keep in touch your mother.

2, 3 ve 4. soruları aşağıdaki telefon konuşmasının da verilen bilgileri dikkate alarak cevaplayınız.

Christine : Hi! This is Christine. Can I speak to Donna?

Lila : Yes, sure. Just a second please.

Christine : Hello, Donna. Do you have any plan for the weekend?

Donna : Hello. No, I don't have any plan.

Christine : Why don't we join the cultural tour with Tina?

Donna : Oh! That sounds great.

Christine : OK, then. We are going to take you at 6 a.m on Saturday morning.

Donna : OK. I'm going to be in front of the apartment at 6 a.m.

2. **Who answered the telephone?**

- A) Christine
B) Donna
C) Lila
D) Tina

3. **They are going to go to - - - - .**

- A) theatre and cinema
B) in front of the apartment
C) at their home
D) cultural tour

4. **When are they going to go?**

- A) They are at home.
B) On Saturday morning.
C) They will be abroad.
D) At eight o'clock.

5. I. Would you like to leave a message?
II. OK. Thank you.
III. May I speak to Can?
IV. He is not available now.

Yukarıda numaralanmış ifadeler hangi seçenekte anlamlı bir diyalog oluşturacak şekilde verilmiştir?

- A) I - II - III - IV
B) III - IV - I - II
C) III - IV - II - I
D) III - I - II - IV

6. "To be online" means - - - - .

Yukarıdaki cümlede boş bırakılan yere uygun düşen seçeneği işaretleyiniz.

- A) find the address
B) source of information
C) read a text
D) stay in chat

7. I use a search engine to find information on the Net.
Yukarıdaki cümlede altı çizili kelimeyi ifade eden resim hangi seçenekte verilmiştir?




8. Aşağıdaki tabloya göre doğru olan seçeneği işaretleyiniz.

	Bahar	Jim	Helen
Swimming with a dolphin	X		✓
Paragliding	X	✓	
Windsurfing		X	X
Hang-gliding	✓		✓

✓ = Yes X = No

- A) Helen has done paragliding.
B) Jim hasn't done paragliding.
C) Bahar has done hanggliding.
D) Bahar has swum with a dolphin.

9. I prefer parachuting because it is exciting.
Yukarıdaki ifadeye uygun düşen resim hangi seçenekte verilmiştir?



10. I would rather - - - - because I'm interested in swimming.
Yukarıdaki cümlede boş bırakılan yere uygun düşen seçeneği işaretleyiniz.

- A) stay at a hotel by the sea
B) go on a cultural holiday
C) visit historical places
D) buy some souvenirs

11. When you're online, - - - - and password.
Yukarıdaki cümlede boş bırakılan yere uygun düşen seçeneği işaretleyiniz.

- A) get information with everybody
B) research the Internet
C) don't share your personal information
D) go to counselling service

12. Elif : Bungee jumping is my favourite extreme sport.

Daniel : It is very exciting activity and it isn't really dangerous.

Elif : ----. Lots of people do it on holiday.

Yukarıdaki karşılıklı konuşmada boş bırakılan yere uygun düşen seçeneği işaretleyiniz.

- A) Yes, I agree with you
- B) I don't think so
- C) What a shame
- D) I'm happy for you

13.

Which would you prefer staying in hotel or hostels?



----. I prefer bed and breakfast.

Yukarıdaki karşılıklı konuşmada boş bırakılan yere uygun düşen seçeneği işaretleyiniz.

- A) Definitely hostels
- B) Absolutely
- C) I'm sorry, but I can't
- D) I feel the same way

14.



They would rather go ----.

Yukarıdaki resmi dikkate alarak cümledeki boş bırakılan yere uygun düşen seçeneği işaretleyiniz.

- A) diving
- B) cycling
- C) swimming
- D) climb a mountain

HATAY İL MİLLİ EĞİTİM MÜDÜRLÜĞÜ DENEME SINAVI

15. "You must empty the dishwasher, please." ifadesini gösteren seçenek hangisidir?



16. **Mother:** You look terrible. What's the matter?

Eva : I'm responsible for taking the dog for a walk. But I have lots of homework.

Mother: - - - - .

Eva : Thank you. I'll take it after my homework.

Yukarıdaki karşılıklı konuşmada boş bırakılan yere uygun düşen seçeneği işaretleyiniz.

- A) Of course
- B) I'm terrible, sorry
- C) Don't worry, you should do your homework
- D) Here you are

17.

do the laundry	✓
vacuum the carpets	✓
do the dusting	✗
cook the meal	✓
do the shopping	✗

She - - - - .

Yukarıdaki tabloyu dikkate alarak cümlede boş bırakılan yere uygun düşen seçeneği işaretleyiniz.

- A) didn't vacuum the carpets
- B) did the laundry
- C) didn't cook the meal
- D) did the dusting

18.



My mother - - - - .

Yukarıdaki resmi dikkate alarak cümledeki boş bırakılan yere uygun düşen seçeneği işaretleyiniz.

- A) did the laundry
- B) paid the bill
- C) washed the dishes
- D) fed the pet

19. **Alice** : Which one do you prefer? Historic sites or the seaside?

Meltem : - - - - , because they are more interesting. I wonder ancient buildings.

Yukarıdaki karşılıklı konuşmada boş bırakılan yere uygun düşen seçeneği işaretleyiniz.

- A) I'd rather seaside
- B) I'd rather historic sites
- C) I prefer swimming
- D) I prefer visiting

20. Sky surfing is a new - - - - sport.

Yukarıdaki cümlede boş bırakılan yere uygun düşen seçeneği işaretleyiniz.

- A) extreme
- B) boring
- C) indoor
- D) slow